



MUNICÍPIO DA ESTÂNCIA BALNEÁRIA DE PRAIA GRANDE
















Estado de São Paulo
SEDUC - Secretaria de Educação

SEMANA 15 (2º SEMESTRE 2021) PONTE DO SABER



3ª E 4ª SÉRIES EJA

1- ESCREVA EM SEU CADERNO AS CÉDULAS DE ACORDO COM O VALOR DE CADA OBJETO.

R\$ 17,00 	    
R\$ 35,00 	   
R\$ 7,00 	  

2- OBSERVE A SEQUÊNCIA A SEGUIR E COMPLETE-A:

35	36				40				44
----	----	--	--	--	----	--	--	--	----

76	75			72					
----	----	--	--	----	--	--	--	--	--

3- ESCREVA OS NÚMEROS ABAIXO POR EXTENSO :

128 _____

145 _____

132 _____

154 _____

4- MARQUE A ALTERNATIVA COM O RESULTADO CORRETO:

a) $123 + 135 =$ () 150 () 258 () 242

b) $212 + 324 =$ () 536 () 439 () 537

c) $310 + 135 =$ () 460 () 445 () 559

5- COMPLETE A TABELA DE MULTIPLICAÇÃO POR 5:

X	1	2	3	4	5	6	7	8	9	10
5	5	10								

6- CALCULE O DOBRO E O TRIPLO DOS SEGUINTE NÚMEROS:

	DOBRO	TRIPLO
25		
49		
77		
54		
83		
12		
100		

LEMBRANDO QUE O **DOBRO** EQUIVALE
A DUAS VEZES MAIS E O **TRIPLO** TRÊS
VEZES MAIS!